

1 Completa la serie.

1 ___ 3 ___ 5 ___ ___ ___ ___



10 ___ 12 ___ ___ ___ ___ ___ ___

20 21 22 ___ ___ ___ ___ ___ ___

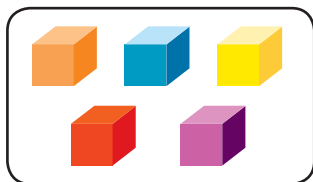
2 Continúa la serie hasta completar una decena.




3 Observa la imagen y dibuja dentro del recuadro más pelotas.



4 Observa la imagen y dibuja dentro del recuadro menos dados.



5 Observa la secuencia y escribe: *primero*, *segundo* y *tercero*, según corresponda.




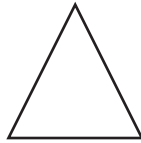

6 Escribe con letra las siguientes cantidades.

12 _____

20 _____

15 _____

7 Escribe sobre la línea el nombre de cada figura.



8 Escribe el antecesor y sucesor a cada número.

_____ 9 _____

_____ 12 _____

_____ 20 _____

9 Completa la siguiente serie.



10 Suma y resta.

Realiza las siguientes operaciones en la recta numérica.



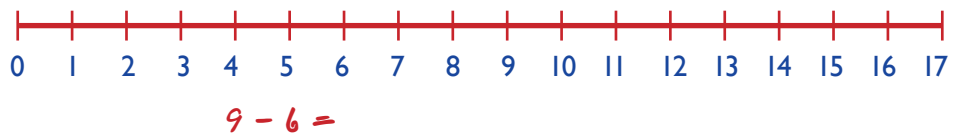
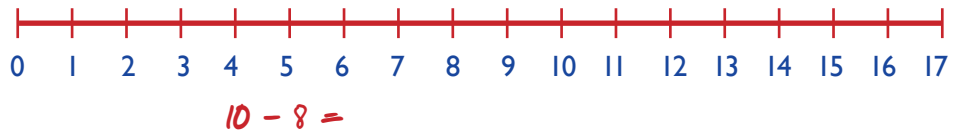
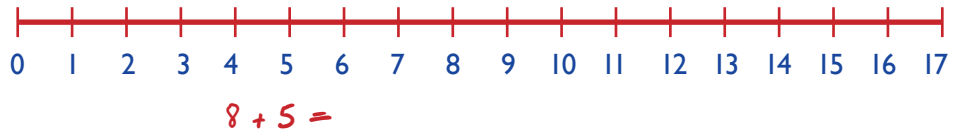
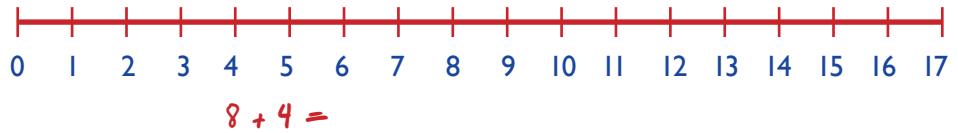
$3 + 4 =$




$5 + 6 =$



$10 + 6 =$



- 11** Hay 3 pelotas en la caja. Si Pedro saca 2, ¿cuántas quedan?



Respuesta _____ pelotas

- 12** Juan tiene 5 canicas en su bolso y 6 más en su mano ¿Cuántas tiene?



Respuesta _____ canicas