




1 Traza la simetría a las figuras.



2 Escribe el nombre de los cuerpos geométricos.



\_\_\_\_\_



\_\_\_\_\_



\_\_\_\_\_

3 Escribe con letra las siguientes cantidades:

564 329. 123 \_\_\_\_\_

785.340 345 \_\_\_\_\_

9 000 023.20 \_\_\_\_\_



4 Escribe los valores absoluto y relativo de los dígitos indicados.

en la cantidad 768 430 002

a) el valor absoluto de 2 es \_\_\_\_\_

b) el valor relativo de 8 es \_\_\_\_\_

c) el valor relativo de 7 es \_\_\_\_\_

d) el valor absoluto de 4 es \_\_\_\_\_

e) el valor relativo de 6 es \_\_\_\_\_

- 5 Escribe el nombre de números ordinales que se te piden.

89° \_\_\_\_\_

95° \_\_\_\_\_

27° \_\_\_\_\_

12° \_\_\_\_\_

- 6 Escribe con números romanos las siguientes cantidades.

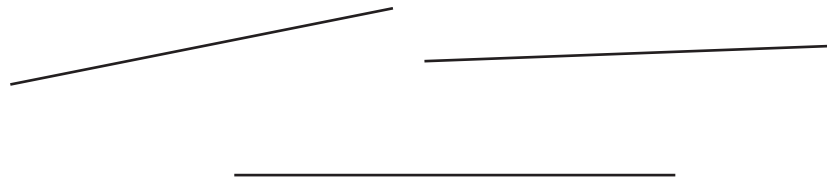
609 432 \_\_\_\_\_

8 953 \_\_\_\_\_

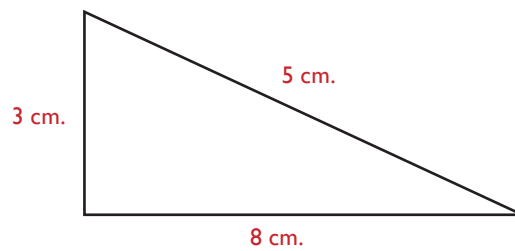
100 \_\_\_\_\_

50 \_\_\_\_\_

- 7 Mide y traza la suma de los segmentos.



- 8 Encuentra el área y perímetro de la siguiente figura.



A =

P =



- 9 Realiza las siguientes operaciones.

$$\begin{array}{r} 4568 \\ + 5602 \\ \hline 7489 \end{array}$$

$$\begin{array}{r} 5679 \\ - 4780 \\ \hline \end{array}$$

$$\begin{array}{r} 569753 \\ \times \quad 662 \\ \hline \end{array}$$

$$682 \overline{) 94201}$$

- 10 Traza un ángulo agudo, uno obtuso y uno recto.

- 11 Nancy tiene \$45.00, Paola tiene \$65.00, Raquel tiene \$98.00, Elvira tiene \$120.00 y Esthela tiene \$78.00.

¿Cuál es la media aritmética de lo que tienen?

Resultado \_\_\_\_\_

- 12 Una televisión cuesta \$5,789.00, será comprada por los 7 miembros de la familia. ¿Cuánto tiene que dar cada uno?

Resultado \_\_\_\_\_

